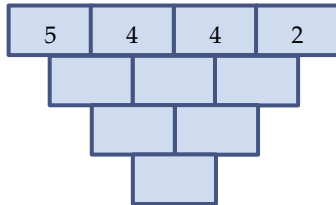




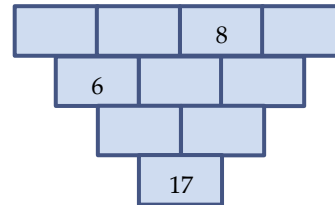
# Bottental

Varje ruta består av ett värde motsvarande summan av de två ovanstående rutorna.

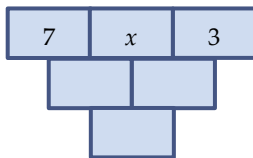
A) Vilket är bottentalet i detta exempel?



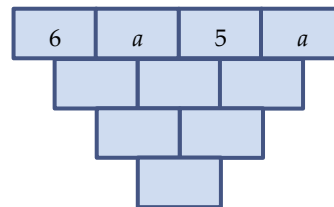
B) Fyll i de ej ifyllda rutorna.



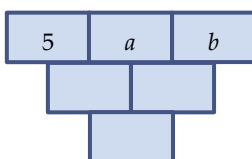
C) Vilket är bottentalet?



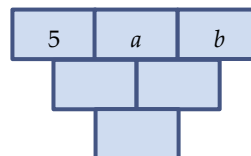
D) Vilket är bottentalet?



E) Vilket är bottentalet?



F) Finn värden på  $a$  och  $b$  så att bottentalet är 20.



Uppgifterna är inspirerade av Nämnaren *TEMA*, Algebra för alla (1997), s. 136–137, NCM, Göteborgs universitet